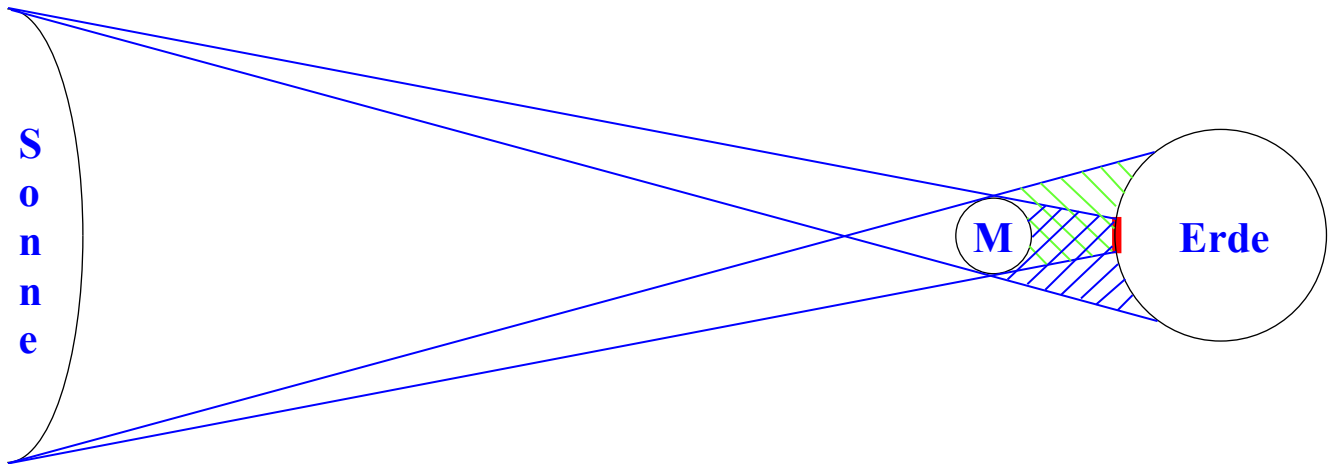


Eine **Sonnenfinsternis** entsteht nur, wenn die **Sonne** von der **Erde** aus gesehen durch den **Mond** vollständig oder teilweise **verdeckt** wird.

Dabei befindet sich ein kleiner **Teil** der **Erde** im **Kernschatten** des **Mondes**.

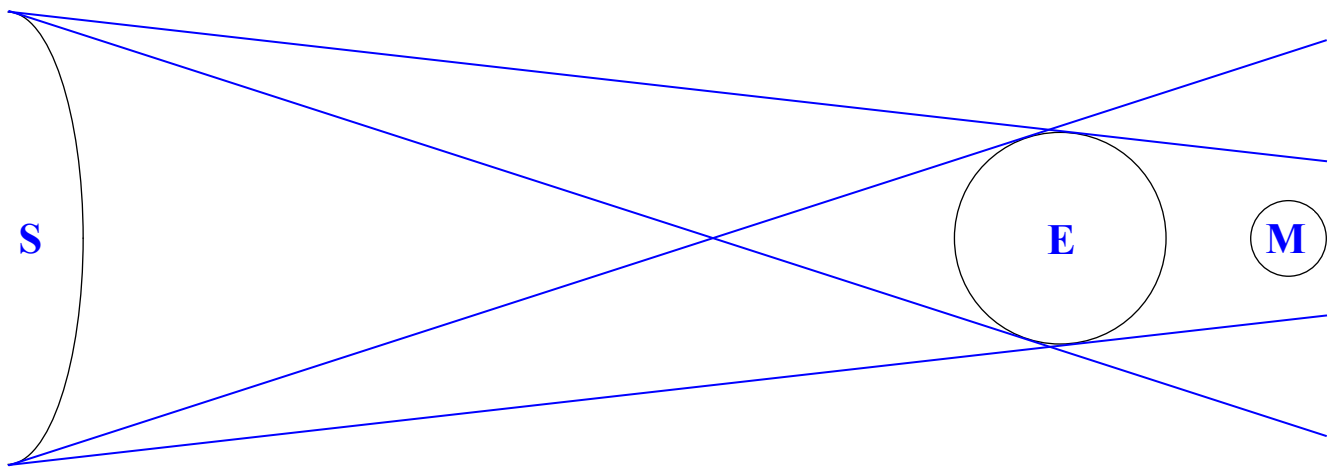
Beachte: Eine Sonnenfinsternis kann nur während der Mondphase **Neumond** entstehen.



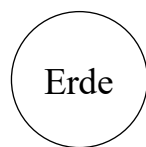
Eine **Mondfinsternis** entsteht nur, wenn der **Mond** von der **Erde** aus gesehen von der Sonne **nicht beleuchtet** werden kann.

Dabei befindet sich der gesamte **Mond** im **Kernschatten** der **Erde**.

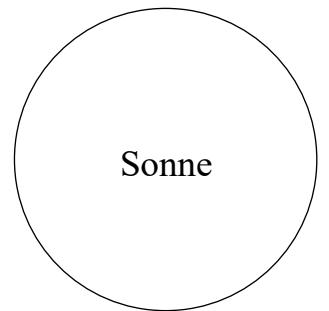
Beachte: Eine Mondfinsternis kann nur während der Mondphase **Vollmond** entstehen.



HA 1: Ergänze die Zeichnung mit 4 Lichtstrahlen zu einer **Sonnenfinsternis**!
Zeichne zuerst an geeigneter Stelle den Mond in geeigneter Größe ein!



**Hausaufgabe heißt:
Doch mal selbst
„eine Rübe machen“!**



HA 2: Ergänze die Zeichnung mit 4 Lichtstrahlen zu einer **Mondfinsternis**!
Zeichne zuerst an geeigneter Stelle den Mond in geeigneter Größe ein!

